



PREFEITURA  
**NITERÓI**

SECRETARIA DE EDUCAÇÃO,  
CIÊNCIA E TECNOLOGIA  
FUNDAÇÃO MUNICIPAL DE EDUCAÇÃO



SISTEMA DE AVALIAÇÃO DA EDUCAÇÃO DE NITERÓI

## **5º ANO CADERNO 1**

### **PROGRAMA AVALIAR PARA CONHECER**

ESTE CADERNO CONTÉM 20 (VINTE) QUESTÕES  
DE MÚLTIPLA ESCOLHA, CADA UMA COM 4 ALTERNATIVAS DE  
RESPOSTA – A, B, C e D – CONFORME DISPOSIÇÃO ABAIXO:

<b>Disciplinas</b>	<b>Quantidade de questões</b>
- Língua Portuguesa	10
- Matemática	10

## Questão 01

[...] Todas as tardes, depois de fazer a lição de casa, o Tico sentava na calçada em frente de Casa e ficava horas olhando o céu.

“O Tico está me deixando preocupada [...]”, a mãe dele pensava.

“Desde que nos mudamos para o interior, ele só quer saber de ficar ali sentado, sem fazer nada [...]”

Uma tarde, dona Dora saiu na janela para dar uma olhadinha no filho e viu que ele não estava mais sozinho: uma garotinha ruiva estava sentada ao lado dele na calçada.

“Que bom! O Tico arranhou companhia”, ela pensou feliz [...].

GALASSO, Lô. *Mãos de vento e olhos de dentro*. São Paulo: Editora Scipione, 2002.

Uma tarde, dona Dora saiu na janela para:

- A) arranjar companhia.
- B) fazer a lição de casa.
- C) dar uma olhadinha no filho.
- D) ficar olhando o céu.

## Questão 02

**Receita de Brigadeiro**

Ingredientes:

- 1 lata de leite condensado;
- 1 colher de sopa de margarina sem sal;
- 7 colheres rasas das de sopa de chocolate em pó;
- Chocolate granulado para fazer bolinhas.

Modo de Preparo:

Coloque em uma panela funda o leite condensado, a margarina e o chocolate em pó.

Cozinhe em fogo médio e mexa sem parar com uma colher de pau.

Cozinhe até que o brigadeiro comece a desgrudar da panela.

Deixe esfriar bem, então unte as mãos com margarina, faça as bolinhas e envolva-as em chocolate granulado.

As forminhas você encontra em qualquer supermercado.

O texto tem como finalidade:

- A) incentivar as festas de aniversário.
- B) instruir quanto ao preparo de um prato.
- C) incentivar o consumo de doces.
- D) mostrar somente os ingredientes da receita.

## Questão 03

O exibido entrou no bar, gritando:

– Tem alguém aqui que queira lutar com um valente?

Para azar dele, um sujeito se levantou e aceitou. Era um armário [...].

Mas o exibido não se apertou:

– E tem algum outro valente aí que queira lutar com este valente aqui?

ZIRALDO. *As Anedotinhas do Bichinho da Maçã*. São Paulo: Melhoramentos, 2006, p. 43.

A palavra ARMÁRIO (parágrafo 3) dá a entender que o homem era:

- A) grande.
- B) quadrado.
- C) espaçoso.
- D) novo.

**Torresminho de vagalume**

Mais um dia se passou. O caçador de vaga-lumes não tinha pressa. Ele adorava quando a noite chegava para ficar admirando os dois lindos “brinquedinhos” que havia caçado. Ora pensava em armar um grande aquário e prendê-los, ali, dentro, ora, pensava numa boa fritada. E, enquanto não decidia, deixava-os presos na velha cabana.

SIQUEIRA, Jurandi Alves. *O caçador de Vaga-Lumes*. Rio de Janeiro: Muiraquitã, 2005, p. 13.

A expressão PRENDÊ-LOS refere-se:

- A) à velha cabana.
- B) aos vaga-lumes.
- C) ao aquário.
- D) ao caçador.

**Os primeiros dias**

Os primeiros dias na casa da senhorita Polly foram cheios de descobertas e de muitos deveres, pois a tia era do tipo de pessoa que só pensava no dever. Parecia querer organizar o mundo a seu modo e dava ordens que tinham que ser obedecidas imediatamente.

Pollyana tinha o dever de chegar na hora certa para fazer as refeições. Era também seu dever manter as janelas do quarto fechadas para que não entrassem moscas. [...]

Dever, dever [...]

PORTE, Eleonor H. *Pollyanna*. São Paulo: Scipione, 2001, p. 17.

A expressão NA CASADA SENHORITA POLLY (parágrafo 1) indica:

- A) lugar.
- B) tempo.
- C) causa.
- D) finalidade.

### A menina do leite

A menina não cabia em si de felicidade. Pela primeira vez iria à cidade vender o leite de sua vaquinha. Trajando o seu melhor vestido, ela partiu pela estrada com a lata de leite na cabeça. Enquanto caminhava, o leite chacoalhava dentro da lata. E os pensamentos faziam o mesmo dentro da sua cabeça.

“Vou vender o leite e comprar uma dúzia de ovos.”

“Depois, choco os ovos e ganho uma dúzia de pintinhos.”

“Quando os pintinhos crescerem, terei bonitos galos e galinhas.”

“Vendo os galos e crio as frangas, que são ótimas botadeiras de ovos.”

“Choco os ovos e terei mais galos e galinhas.”

“Vendo tudo e compro uma cabrita e algumas porcas.”

“Se cada porca me der três leitõezinhos, vendo dois, fico com um e...”

A menina estava tão distraída que tropeçou numa pedra, perdeu o equilíbrio e levou um tombo. Lá se foi o leite branquinho pelo chão.

E os ovos, os pintinhos, os galos, as galinhas, os cabritos, as porcas e os leitõezinhos pelos ares.

Moral: Não se deve contar com uma coisa antes de consegui-la.

Disponível em < <http://metaforas.com.br/a-menina-do-leite>> Acesso em 26 de maio de 2013.

No final da história, a menina:

- A) realizou os seus desejos.
- B) vendeu o leite e ficou rica.
- C) bebeu todo o leite e não pôde vendê-lo.
- D) acabou ficando sem o leite.

### Nome da ente

Eu não gosto do meu nome  
 Não fui eu quem escolheu  
 Eu não sei porque se metem  
 Com um nome que é só meu  
 O nenê que vai nascer  
 Vai chamar como o padrinho  
 Vai chamar como o vovô  
 Mas ninguém vai perguntar  
 O que pensa o coitadinho  
 Foi meu pai quem decidiu  
 Que o meu nome fosse aquele,  
 Isso só seria justo  
 Se eu escolhesse o nome dele  
 Quando eu tiver um filho  
 Não vou por nome nenhum  
 Quando ele for bem grande,  
 Ele que escolha um!

BANDEIRA, Pedro. *Cavalgando o arco-íris*. São Paulo: Editora Moderna, 2006.

O verso que indica COMPARAÇÃO é:

- A) “Foi meu pai quem decidiu”.
- B) “Ele que escolha um!”.
- C) “Vai chamar como o padrinho”.
- D) “Eu não gosto do meu nome”.

Questão 08



23  
05/2013 **Filmes MEGA legais que estreiam em 2013 e você precisa assistir!**

Categorias: Blog da Galera - Por Equipe Capricho às 19:24

Curtir 321 Tweetar 19 Pin it +1 0 Share 45

Oi oi oi, meninas! Aqui é a Lari! :) Vim falar sobre um assunto que a maioria das pessoas gostam: filmes! Fala sério, tem coisa melhor do que passar aqueles dias friiiios em baixo do edredom, comendo pipoca e vendo seus filmes preferidos? Ou então, descobrir que naquele sábado que você não tem plano nenhum, estreia um filme muito bom que você estava louca pra assistir? Nada melhor, né?! ;) Por isso, decidi mostrar os filmes mais legais que descobri que vão estrear nesse ano, para vocês ficarem tão animadas e ansiosas quanto eu! Haha.

Disponível em <<http://capricho.abril.com.br/blogs/blogdagalera/>> Acesso em 25 de maio de 2013.

Pela linguagem se observa que a revista é destinada a um público composto principalmente por:

- A) meninos.
- B) crianças.
- C) adultos.
- D) garotas.

Questão 09

[...] – Minha nossa! Mamãe vai ficar uma fera quando descobrir que você deu cabo na joia mais preciosa de nossa família – falou Alice em tom sério.

– Joia preciosa? Você está de gozação comigo, aquele livro já não servia mais. Nunca vi você sequer folheá-lo [...].

SOUTO, Emanuel. *A menina, o livro e o lixo*. São Paulo: Editora Construir, 2010.

Nunca vi você sequer folheá-lo.[...]"

A expressão FOLHEÁ-LO se refere:

- A) à mãe.
- B) à Alice.
- C) ao livro.
- D) à família.

Questão 10

### A arte de brincar

O artista plástico carioca Ivan Cruz tem 65 anos e adora brincar. Por isso resolveu transformar suas brincadeiras em obras de arte.

São centenas de pinturas e esculturas que retratam telefone de lata, jogo de bafo, bolhas de sabão...

Disponível em < <http://chcineciahoje.uol.com.br> > Acesso em 05 de junho de 2013.

Apontuação usada no final do texto sugere:

- A) continuidade.
- B) finalidade.
- C) pausa.
- D) parada.

## Questão 11

Chegou à cidade o parque de diversões Alegria. Carol ficou animadíssima e sua mãe resolveu levá-la ao parque no sábado. Chegaram às 18h. Carol brincou durante 40 minutos e perdeu 25 minutos na fila dos brinquedos. A que horas ela saiu do parque?

- A) 18h15min
- B) 18h25min
- C) 18h40min
- D) 19h05min

## Questão 12

Em um feriado, Juliana irá acampar com seus pais. Eles ficarão acampados quatro dias e meio. Durante quantas horas ficarão acampados?

- A) 74
- B) 84
- C) 98
- D) 108

## Questão 13

Mauro foi ao banco e pegou um extrato bancário. Em sua conta corrente havia um saldo de R\$ 1.543,23. Usando este dinheiro, Mauro pagou a conta de luz no valor de R\$ 123,45 e a conta de água no valor de R\$ 39,50. Depois que Mauro pagou suas contas, em sua conta corrente restou:

- A) R\$ 1.380,28
- B) R\$ 1.419,78
- C) R\$ 1.421,72
- D) R\$ 1.706,18

## Questão 14

No ano de 2000 a população de Itaipu, que é um dos bairros de Niterói, era de, aproximadamente, 17.300 habitantes, segundo dados coletados no IBGE. O número 17.300 possui quantas centenas?

- A) 3
- B) 173
- C) 7.300
- D) 17.300


## Questão 15

Lucas queria comprar um celular que custava R\$ 230,00. Ao chegar a uma loja que estava fazendo uma liquidação, descobriu que o mesmo celular, sendo pago à vista, teria um desconto de 50%. Lucas aproveitou a grande oportunidade e comprou o celular, à vista, por:

- A) R\$ 110,00
- B) R\$ 115,00
- C) R\$ 180,00
- D) R\$ 280,00

Questão 16

A foto abaixo mostra parte de uma calçada para pedestres.

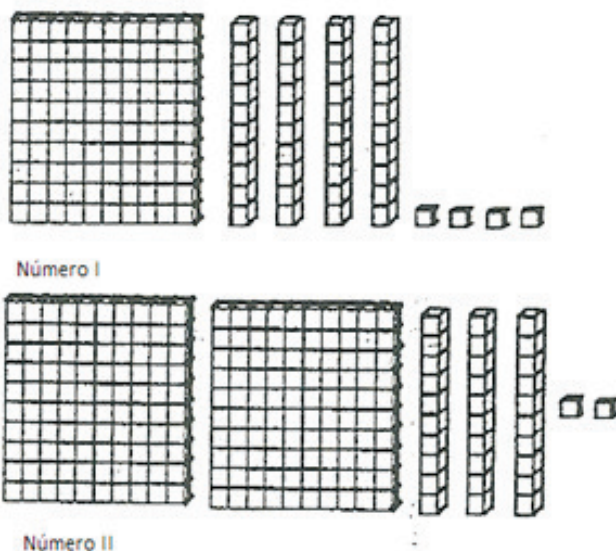


A figura geométrica representada por cada pedra da foto é de um:

- A) Trapézio.
- B) Pentágono.
- C) Hexágono.
- D) Octógono.

Questão 17

Observe os números representados abaixo em que foi utilizado o material dourado.



Se adicionarmos 3 dezenas a cada número, eles se transformarão nos números:

- A) 444 e 532.
- B) 147 e 235.
- C) 174 e 262.
- D) 114 e 212.

Questão 18

Matheus foi ao shopping comprar um novo celular. O celular escolhido por Matheus possui internet, câmera, MP3, e custa R\$ 750,00, que pode ser pago em 6 parcelas iguais e fixas. Sabendo que Matheus recebe mensalmente uma mesada de R\$ 200,00 para seus gastos individuais, qual quantia lhe restará mensalmente, caso compre o celular parcelado?

- A) R\$ 125,00
- B) R\$ 625,00
- C) R\$ 75,00
- D) R\$ 325,00

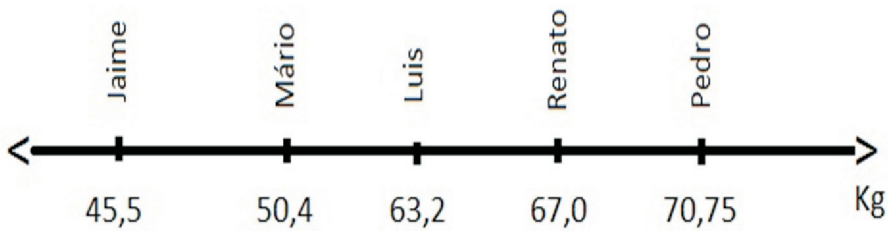
Questão 19

A família da minha mãe é muito grande. São 3 irmãs e 2 irmãos. Sua irmã mais velha tem 2 filhos e sua irmã mais nova tem 3 filhos. Seu irmão mais velho tem 4 filhos e seu irmão mais novo tem 2 filhos. Sabendo que a minha mãe tem 3 filhos, quantos netos tem minha avó materna?

- A) 19
- B) 14
- C) 11
- D) 08

Questão 20

Na reta numérica abaixo está registrado o peso de 5 alunos do 5º ano.



Qual a diferença, em quilogramas, entre o aluno mais pesado e o menos pesado?

- A) 25,25
- B) 12,25
- C) 3,75
- D) 116,25