



Olá, querido(a) estudante!

Estamos distantes nesse momento, mas não queremos perder o contato com você! Durante esse período, planejamos atividades que organizarão a sua rotina de estudos.

- Para começar, procure um lugar tranquilo para realizar as atividades.
- Peça ajuda aos seus pais ou responsáveis se necessário.
- Algumas atividades necessitam ser registradas em um caderno.
- Procure explorar todos os recursos propostos.

Boas experiências para você!

### Plano de Estudo – 19ª Semana: de 08 a 11 de setembro de 2020.

Olá, querido(a) estudante! Pronto para novas descobertas?

Nesta semana, vamos conhecer um pouco mais sobre o lugar em que vivemos.

Muitos escritores usam seus textos para falar sobre a sua terra natal, o lugar onde nasceram. Carlos Drummond de Andrade, escritor mineiro, escreveu uma poesia sobre a cidade onde nasceu: Itabira. Vamos conhecer essa poesia?

#### Confidência do Itabirano

Carlos Drummond de Andrade

Alguns anos vivi em Itabira.  
Principalmente nasci em Itabira.  
Por isso sou triste, orgulhoso: de ferro.  
Noventa por cento de ferro nas calçadas.  
Oitenta por cento de ferro nas almas.  
E esse alheamento do que na vida é porosidade e comunicação.  
A vontade de amar, que me paralisa o trabalho,  
vem de Itabira, de suas noites brancas, sem mulheres e sem horizontes.  
E o hábito de sofrer, que tanto me diverte,  
é doce herança itabirana.  
De Itabira trouxe prendas diversas que ora te ofereço:  
esta pedra de ferro, futuro aço do Brasil,  
este São Benedito do velho santeiro Alfredo Duval;  
este couro de anta, estendido no sofá da sala de visitas;  
este orgulho, esta cabeça baixa...  
Tive ouro, tive gado, tive fazendas.  
Hoje sou funcionário público.  
Itabira é apenas uma fotografia na parede.  
Mas como dói!

#### Itabirano

1. Pessoa nascida ou que vive em Itabira (Minas Gerais);
2. De Itabira, típico dessa cidade ou de seu povo.

Fonte: [www.aulete.com.br](http://www.aulete.com.br)

Itabira, Minas Gerais



**Carlos Drummond de Andrade** (Itabira, 31 de outubro de 1902 — Rio de Janeiro, 17 de agosto de 1987) foi um poeta, contista e cronista brasileiro, considerado por muitos o mais influente poeta brasileiro do século XX.  
Fonte: Wikipedia.



## REGISTRE EM SEU CADERNO...

- ☒ Ao ler a poesia de Drummond, você consegue imaginar como era a cidade onde ele nasceu? Faça um desenho de como você imagina essa cidade.
- ☒ Em sua opinião, o autor morou sempre em Itabira? O que o faz pensar assim?
- ☒ A vida que o autor vivia em sua cidade era mais próxima da vida rural ou urbana? O que o faz ter pensar assim?
- ☒ O autor sente saudades do lugar onde nasceu? Em qual parte da poesia percebemos isso?
- ☒ O que acha de pesquisar outros textos onde os autores descrevem os locais onde nasceram? Escolha um desses textos e registre em seu caderno.
- ☒ E você? Nasceu em Niterói ou em outro município?



Vamos conhecer um pouco mais sobre a nossa cidade?  
Veja algumas imagens de Niterói...



[http://www.suderi.ri.gov.br/complexo\\_esportivo.asp](http://www.suderi.ri.gov.br/complexo_esportivo.asp)



Skate Park Carlos Alberto Parizzi – Marina de São Francisco



Skate Park Duda Neves – Horto do Fonseca



Piquenique no Horto do Barreto



Semana do Artesanato no Horto do Barreto



Campo de São Bento: Brinquedos e área de piquenique.



Fontes: <https://br.pinterest.com/pin/66850375698749246/>  
<http://culturaniteroi.com.br/blog/?id=950>  
<https://errejotnoticias.com.br/niteroi-area-de-recreacao-do-campo-de-sao-bento-e-ampliada>  
<https://media-cdn.tripadvisor.com/media/photo-s/0d/ec/09/3b/photo5jpg.jpg>

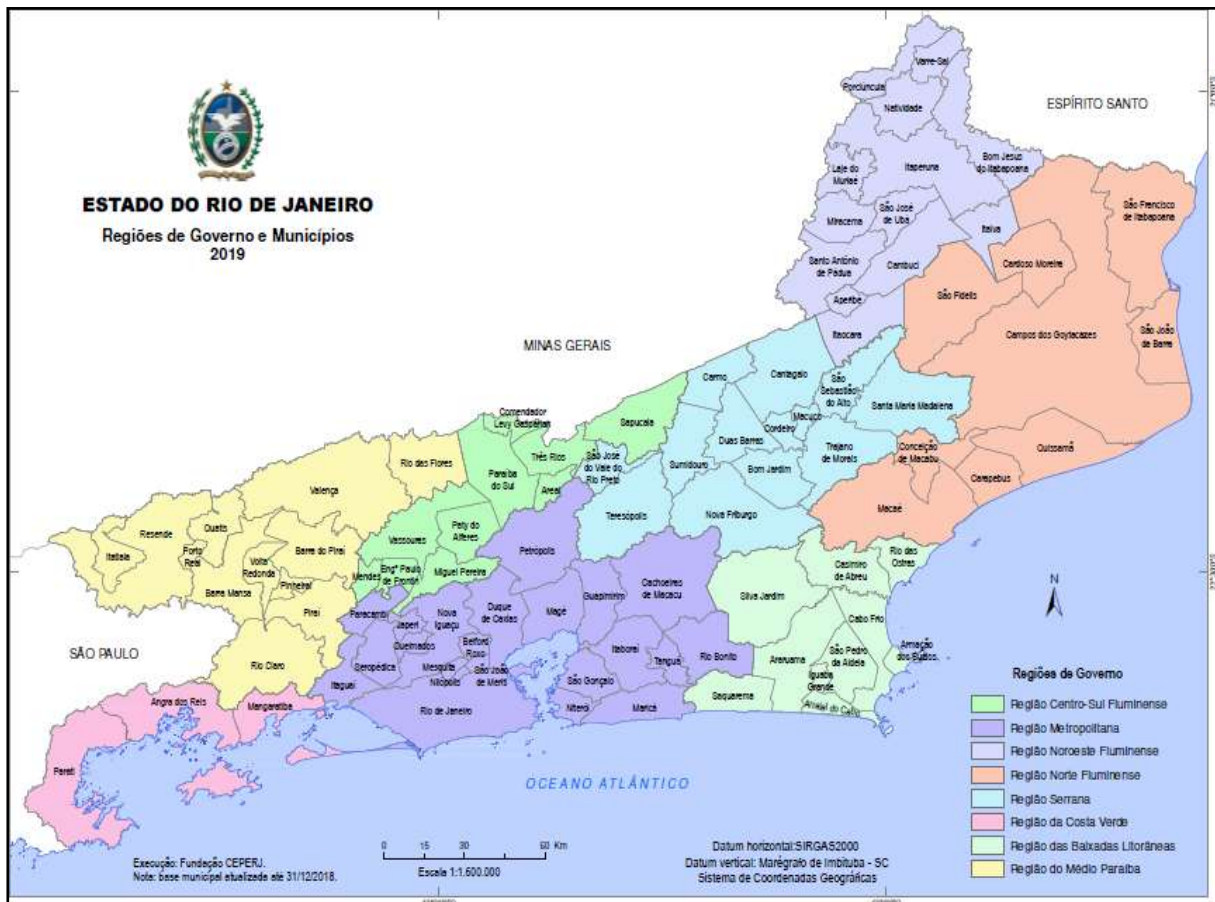
### Observando as imagens acima, você identifica algum desses lugares?

- Se você conhece algum desses lugares, escreva o que gosta de fazer lá, com quem foi a esse lugar, o que fizeram e como se divertiram.
- Se não os conhece, escolha aquele que gostaria de conhecer e faça um desenho bem bonito, pensando em como poderia aproveitar o dia nesse local.



Os niteroienses e os moradores de municípios vizinhos têm a possibilidade de se divertir e aproveitar o lazer nesses locais. Em muitos desses momentos, o registro escolhido pelas famílias é a **fotografia**. Você e sua família já fizeram fotografias de nosso município? Em caso afirmativo, conte quais lugares escolheram para fotografar e quais motivos os levaram a escolher estes espaços.

Niterói é um município localizado no Estado do Rio de Janeiro. O Estado do Rio de Janeiro é formado por 92 municípios. Veja o mapa abaixo:



Esse é o mapa do Estado do Rio de Janeiro. Ele está dividido em regiões, como podemos observar na legenda. Os municípios foram agrupados por cores e identificados com essas mesmas cores na legenda do mapa.

Agora, responda em seu caderno:

1. Em qual região do estado está localizado o município de Niterói?
2. Quais são os municípios mais próximos de Niterói?
3. Como se chama o Oceano que banha as terras de Niterói?

### SAIBA MAIS...

As **legendas** são os significados dos símbolos existentes nos mapas. Esses símbolos podem apresentar-se em forma de cores, ícones, hachuras, pontos, linhas e outros. Alguns desses símbolos apresentam padronizações, como o azul para representar a água; o verde, para as florestas e áreas verdes, linhas com traços para representar ferrovias; aviões para representar aeroportos, entre outros inúmeros exemplos.

Assim como o Estado do Rio de Janeiro está dividido em regiões, que agrupam municípios por apresentarem características semelhantes, o município de Niterói também agrupa seus bairros por zonas ou regiões. Uma das classificações utilizadas é a de Regiões de Planejamento. Nesta organização, os bairros estão divididos nas seguintes Regiões: das Praias da Baía (Centro e arredores e Zona Sul), Oceânica, Norte, de Pendotiba e Leste. Veja isso no mapa abaixo:

### MAPA DAS CINCO REGIÕES NITEROIENSES



- Você mora em Niterói?
- Em qual destas cinco regiões?

**Vamos conhecer quais bairros formam cada Região?**

Fonte da imagem: [https://pt.wikipedia.org/wiki/Lista\\_de\\_bairros\\_de\\_Niter%C3%B3i](https://pt.wikipedia.org/wiki/Lista_de_bairros_de_Niter%C3%B3i)

Região	Bairros
Praias da Baía	Bairro de Fátima, Boa Viagem, Cachoeiras, Centro, Charitas, Gragoatá, Icaraí, Ingá, Jurujuba, Morro do Estado, Pé Pequeno, Ponta d'Areia, Santa Rosa, São Domingos, São Francisco, Viradouro e Vital Brazil.
Norte	Baldeador, Barreto, Caramujo, Cubango, Engenhoca, Fonseca, Ilha da Conceição, Santa Bárbara, Santana, São Lourenço, Tenente Jardim e Viçoso Jardim.
Oceânica	Cafubá, Camboinhas, Engenho do Mato, Itacoatiara, Itaipu, Jacaré, Jardim Imbuí, Maravista, Piratininga, Santo Antônio e Serra Grande.
Pendotiba	Badu, Cantagalo, Ititioca, Largo da Batalha, Maceió, Maria Paula, Matapaca, Sapê e Vila Progresso
Leste	Muriqui, Rio do Ouro e Várzea das Moças.

As imagens abaixo são de alguns bairros de Niterói. Descubra quais são os bairros e a qual região do município eles pertencem. Registre em seu caderno.



1 <https://www.facebook.com/ammp.org>



2 <http://wikimapia.org/1608838/pt/Lagoa-de-Itaipu>



3 <https://pt.wikipedia.org/>



4 <https://pt.wikipedia.org/>



5 <https://www.culturanageroi.com.br/blog/?id=325&equ=ddpfa>



6 <https://www.culturanageroi.com.br/blog/?id=340&>

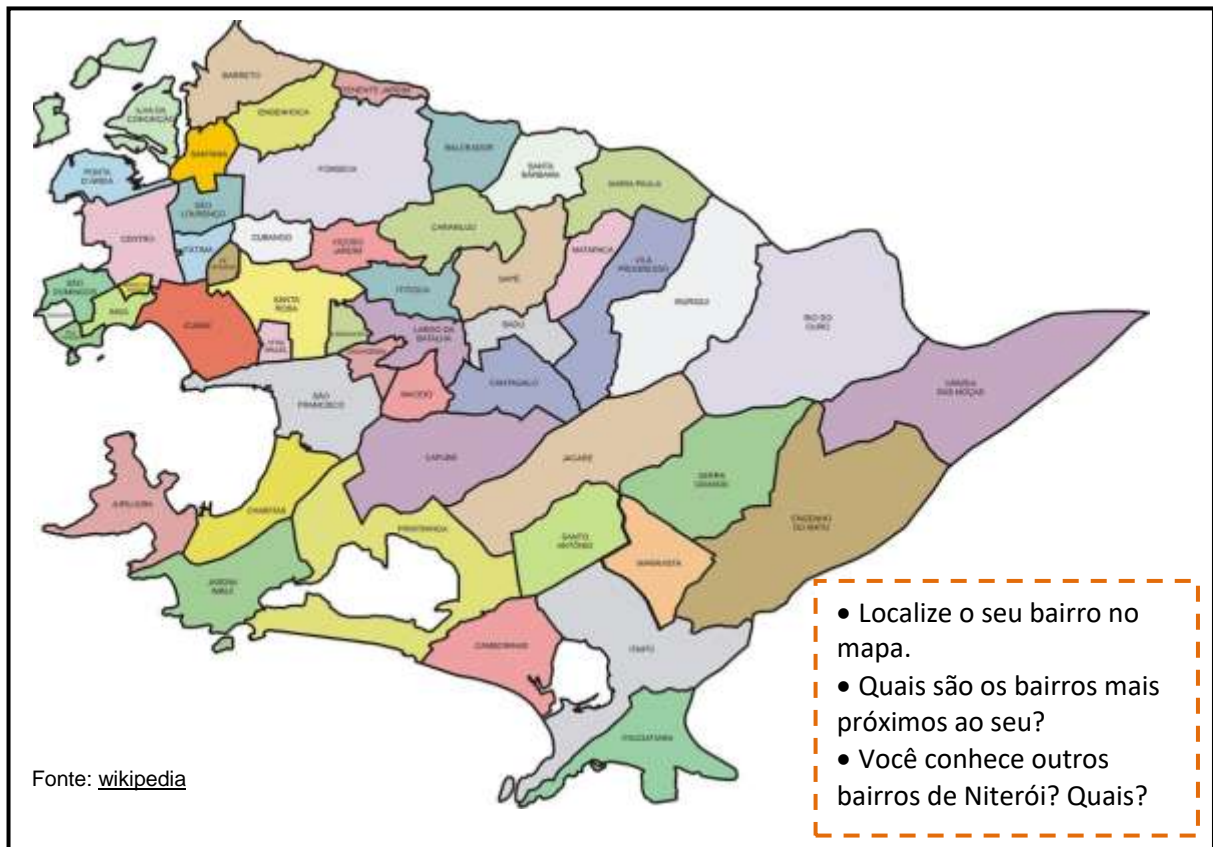


7 <https://www.culturanageroi.com.br/blog/?id=337&equ=ddpfa>



8 <http://culturanageroi.com.br/blog/?id=344>

Agora, conheça o mapa de Niterói dividido em 52 bairros:



### Vamos saber um pouco mais sobre o município de Niterói?

Segundo o último Censo do IBGE (Instituto Brasileiro de Geografia e Estatística), em 2010, o número de habitantes do município de Niterói era de 487.562. A estimativa de população para 2020 é de 515.317 pessoas.

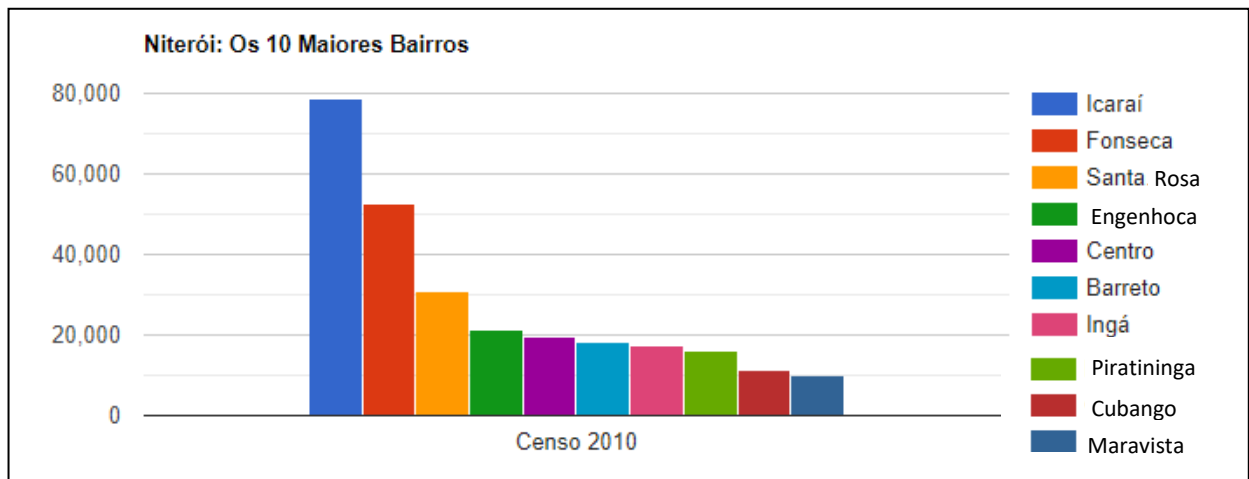
Observando os dados sobre o município de Niterói, podemos concluir que:

- a) sua população aumentou ou diminuiu nestes últimos dez anos?
- b) Como podemos confirmar a resposta anterior? Registre como pensou para chegar a essa conclusão.



Freepik

Observe o gráfico que indica os dez bairros de Niterói com maior população:



**Agora, responda:**

1. Quais são dez bairros mais populosos do município, em ordem decrescente?
2. Qual é o bairro mais populoso?
3. Quais são os municípios indicados no gráfico com população menor que 20.000 habitantes?

**Conheça a população dos bairros acima em números exatos:**

BAIRROS	POPULAÇÃO
Icaraí	78.715
Fonseca	52.629
Santa Rosa	30.701
Engenhoca	21.310
Centro	19.349
Barreto	18.133
Ingá	17.220
Piratininga	16.098
Cubango	11.374
Maravista	10.038

**Observando a tabela ao lado, registre em seu caderno:**

- Escreva por extenso a população do bairro mais populoso.
- Qual é a diferença entre a população dos bairros de Icaraí e Fonseca?
- Qual é a soma da população dos bairros do Centro e do Barreto?

**O seu bairro não está entre os dez mais populosos?**

Pesquise no link abaixo e registre em seu caderno a população do seu bairro:

[http://populacao.net.br/os-maiores-bairros-niteroi\\_rj.html](http://populacao.net.br/os-maiores-bairros-niteroi_rj.html)





Cada grupo social possui símbolos representativos de sua identidade. Os times de futebol, as escolas de samba, empresas, agremiações e organizações possuem suas **bandeiras**. Os países, estados e municípios, têm em suas bandeiras um símbolo que remete às suas origens, aos fatos que as formaram e as representam.

## VOCÊ SABIA?

A **bandeira** é definida classicamente como sendo o símbolo visual representativo de um estado soberano, país, estado, município, intendência, província, bairro, organização, sociedade, clã, coroa ou reino, ou seja, toda e qualquer entidade constituída, quer seja uma nação e seu povo, ou mesmo uma família tradicional, ...

Fonte: pt.wikipedia.org



Bandeira do Brasil



Bandeira do Estado do Rio de Janeiro



Bandeira de Niterói

<https://pt.wikipedia.org/wiki/Bandeira>

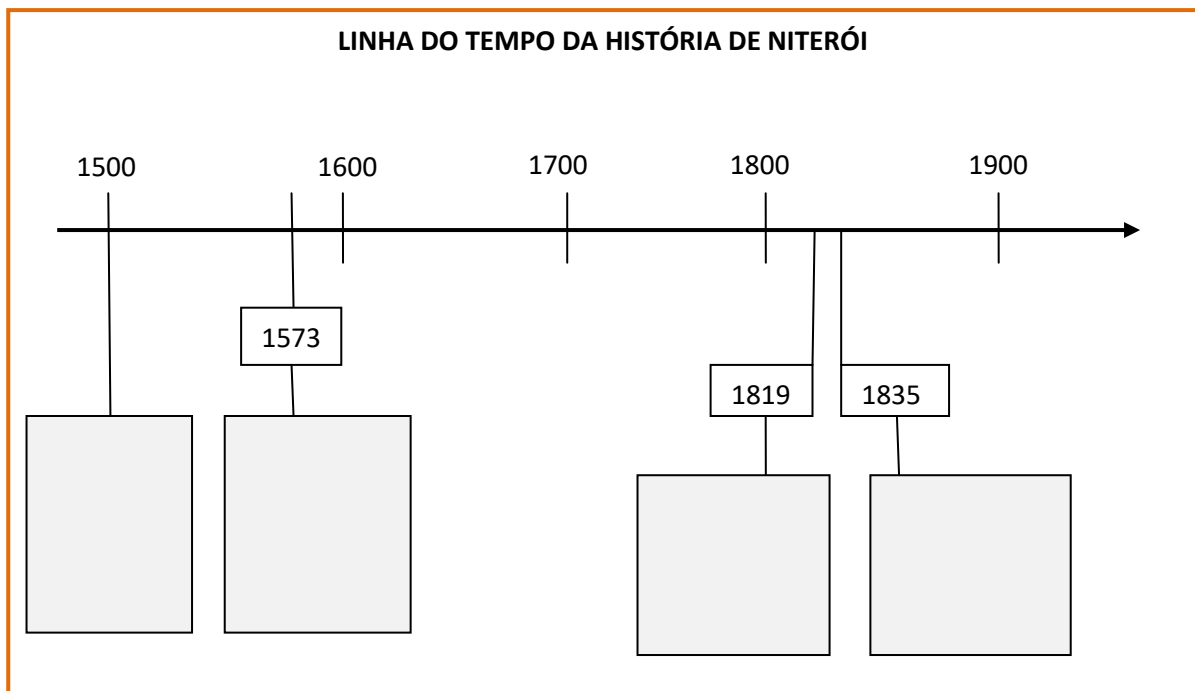


A imagem que aparece na bandeira de Niterói chama-se brasão. Conheça o seu significado:



Fonte: <https://culturaniteroi.com.br/blog/?id=429>

Preencha a linha de tempo da história de Niterói, recorrendo ao brasão da bandeira para completar alguns fatos importantes:



**Observando o brasão da bandeira, responda:**

- 1) Além das datas, o brasão apresenta outros símbolos. Registre em seu caderno.
  - a) três deles sinalizam a colonização portuguesa:
  - b) um deles identifica o potencial econômico do município:
  - c) um deles representa os habitantes da terra:
  - d) um deles apresenta um monumento natural da cidade de Niterói.

### Para terminar, vamos fazer um passeio virtual por Niterói?

Assista ao vídeo e faça um mural em seu caderno com desenhos que mostrem as paisagens de Niterói. Depois, escreva um roteiro dando dicas de lugares imperdíveis para quem deseja conhecer a nossa cidade.

<https://youtu.be/LNZhSNXU50k>



**TENHA UMA ÓTIMA SEMANA!**

**ATÉ A PRÓXIMA!**

**Diretoria de 1º e 2º Ciclos (Professoras: Amália Ferreira, Fátima Araújo, Rosemary Damas e Silvana Malheiro).**